

Presidio Ospedaliero di Garbagnate M.se
S.C. Gestione e Sviluppo delle Risorse Umane

Struttura con Sistema di Gestione UNI EN ISO 9001: 2015

Indirizzo: Viale Forlanini n. 95, 20024 Garbagnate M.se (Mi)

CONCORSO PUBBLICO, PER TITOLI ED ESAMI, PER LA COPERTURA DI N. 1 POSTO DI COADIUTORE AMMINISTRATIVO SENIOR - RUOLO AMMINISTRATIVO (AREA DEGLI OPERATORI) per attività Amministrativa da svolgere prevalentemente presso le strutture allocate nell'ambito territoriale (distretto Garbagnatese – distretto Rhodense – distretto Corsichese), ivi compresi i C.U.P. e Centri prelievo

PROVE D'ESAME

PROVA PRATICA

Prova Pratica n. 1 (VEDI QUESTIONARIO ALLEGATO)

Prova Pratica n. 2 (VEDI QUESTIONARIO ALLEGATO)

Prova Pratica n. 3 (VEDI QUESTIONARIO ALLEGATO)

PROVA ESTRATTA: la prova pratica n. 3 (VEDI QUESTIONARIO ALLEGATO)

PROVA ORALE

Prova Orale – turno ore 9.00

PROVA N. 1 – PROVA ESTRATTA

COS'E' UN DISTRETTO?

IN UN FILE DI WORD COME SI CAMBIA IL TIPO DI CARATTERE (FONT)?

SHE DIDN'T TELL ME THE TRUTH

PROVA N. 2

CHE COSA SONO LE A.S.S.T. (AZIENDE SOCIO-SANITARIE TERRITORIALI)?

IN UN FILE EXCEL COME SI INSERISCE UNA NUOVA RIGA O COLONNA?

HE SUGGESTED GOING FOR A WALK

PROVA N. 3

QUALI ATTIVITA' SVOLGE L'UFFICIO SCELTA E REVOCA)?

IN UN FILE EXCEL COME SI ELIMINA UNA RIGA O COLONNA?

THE HOUSE WAS BUILT IN THE 18TH CENTURY

Prova Orale – turno ore 11.00

PROVA N. 1 – PROVA ESTRATTA

CHE COS'E' IL C.U.P. (CENTRO UNICO PRENOTAZIONE)?

IN UN FILE EXCEL COME SI APPLICA UN FILTRO AI DATI?

THE PROJECT WAS COMPLETED ON TIME

PROVA N. 2

COS'E' UN CONSULTORIO?

IN UN FILE WORD COME SI ALLINEA UN TESTO A DESTRA, A SINISTRA O AL CENTRO?

THE CAR NEEDS TO BE REPAIRED

PROVA N. 3

CHE COS'E' IL FASCICOLO SANITARIO ELETTRONICO?

IN UN FILE DI EXCEL COME SI ORDINA UN ELENCO DI DATI?

I HAVE NO IDEA WHERE HE WENT

Prova Orale – turno ore 14.00

PROVA N. 1

CHE COSA SONO LE ATS (AGENZIA DI TUTELA DELLA SALUTE)?

IN UN FILE DI WORD O EXCEL QUAL E' LA DIFFERENZA TRA "SALVA" e "SALVA CON NOME"?

THIS IS THE BEST BOOK I HAVE EVER READ

PROVA N. 2

CHE COS'E' IL CENTRO PRELIEVO?

IN UN FILE DI WORD COME SI GIUSTIFICA UN PARAGRAFO?

HE DIDN'T KNOW WHAT TO SAY

PROVA N. 3 – PROVA ESTRATTA

COS'E' IL TICKET SANITARIO?

IN UN FILE DI EXCEL A COSA SERVE LA FUNZIONE "SOMMA"?

THE BOOK WAS WRITTEN BY A FAMOUS AUTHOR

Prova Orale – turno ore 16.00

PROVA N. 1

A COSA SERVONO GLI UFFICI CHE SI OCCUPANO DELL'ASSISTENZA PROTESICA?

IN UN FILE DI WORD COME SI METTE IL TESTO IN GRASSETTO, CORSIVO O SOTTOLINEATO?

SHE HAS ALREADY FINISHED HER HOMEWORK

PROVA N. 2 – PROVA ESTRATTA

COSA SONO I CENTRI VACCINALI?

IN UN FILE WORD COME SI MODIFICA LA DIMENSIONE DEL TESTO?

THIS COFFEE IS TOO HOT TO DRINK

PROVA N. 3

QUAL E' LA DIFFERENZA TRA ATS E ASST?

IN UN FILE DI EXCEL COME SI RINOMINA UN FOGLIO DI LAVORO?

HE WORKS FOR A MULTINATIONAL COMPANY

CRITERI DI VALUTAZIONE DEI TITOLI

TITOLI DI CARRIERA

PUNTI 25

da attribuire nel seguente modo:

servizi prestati presso le unità sanitarie locali, le aziende ospedaliere, gli Enti di cui agli artt. 21 e 22 del D.P.R. n. 220/2001 e presso altre Pubbliche Amministrazioni:

- nel profilo professionale a concorso o in qualifiche corrispondenti, punti 1,200 per anno – valutata categoria D dall'1.09.2001;
- nel corrispondente profilo della categoria inferiore o in qualifiche corrispondenti, punti 0,600 per anno.

La valutazione dei servizi e titoli equipollenti ed equiparabili verrà effettuata ai sensi degli artt. 20, 21, e 22 del D.P.R. 27 Marzo 2001 n. 220.

In conformità ai principi stabiliti dall'art. 11 del D.P.R. 27.3.2001 n. 220, la Commissione determina i seguenti criteri generali per la valutazione dei titoli di carriera:

- i certificati, per essere oggetto di valutazione, devono essere rilasciati dal legale rappresentante dell'Ente o dall'Autorità a ciò competente;
- i servizi saranno valutati fino alla data di rilascio del relativo certificato;
- le frazioni di anno saranno valutate in ragione mensile, considerando, come mese intero, periodi continuativi di giorni trenta o frazioni superiori a quindici giorni;
- i periodi di servizio omogeneo sono cumulabili;
- i periodi di servizio prestati a tempo parziale sono valutati proporzionalmente all'orario di lavoro previsto dal Contratto collettivo nazionale di lavoro;
- per i periodi di servizio non specificatamente determinati, le annate saranno calcolate dal 31 dicembre del primo anno al primo gennaio dell'ultimo anno, mentre le mensilità saranno calcolate dall'ultimo giorno del primo mese al primo giorno dell'ultimo mese;
- non saranno valutati attestati laudativi;
- non saranno valutati titoli presentati successivamente al termine utile per la presentazione delle domande.

TITOLI ACCADEMICI E DI STUDIO

PUNTI 3

I titoli accademici e di studio sono valutati tenuto conto dell'attinenza dei titoli posseduti con il profilo professionale da conferire.

PUBBLICAZIONI E TITOLI SCIENTIFICI

PUNTI 3

Per la valutazione delle pubblicazioni e dei titoli scientifici saranno applicati i criteri previsti dall'art. 11 del D.P.R. 27 Marzo 2001, n. 220.

In particolare, la valutazione delle pubblicazioni deve essere adeguatamente motivata, in relazione alla originalità della produzione scientifica, all'importanza della rivista, alla continuità ed ai contenuti dei singoli lavori, al grado di attinenza dei lavori stessi con la posizione funzionale da conferire, all'eventuale collaborazione di più autori.

Inoltre la Commissione deve tenere conto, ai fini di una corretta valutazione:

- della data di pubblicazione dei lavori in relazione all'eventuale conseguimento di titoli accademici già valutati in altra categoria di punteggi;
- del fatto che le pubblicazioni contengano mere esposizioni di dati e casistiche, non adeguatamente avvalorate ed interpretate, ovvero abbiano contenuto solamente compilativo e divulgativo, ovvero ancora costituiscano monografie di alta originalità.

Saranno valutate esclusivamente le pubblicazioni edite a stampa e prodotte in originale o copia autenticata, ai sensi di legge.

CURRICULUM FORMATIVO E PROFESSIONALE

PUNTI 9

Per la valutazione del curriculum formativo e professionale viene richiamato l'art. 11 del citato D.P.R. n. 220, e pertanto saranno valutate le attività professionali e di studio formalmente documentate, non riferibili a titoli già valutati nelle precedenti categorie, idonee ad evidenziare, ulteriormente, il livello di qualificazione professionale acquisito nell'arco dell'intera carriera e specifiche rispetto alla posizione funzionale da conferire, nonché agli incarichi di insegnamento conferiti da Enti Pubblici. In tale categoria rientrano anche i corsi di formazione e aggiornamento professionale qualificati con riferimento alla durata e alla previsione di esame finale.

Saranno valutate esclusivamente le attività professionali e di studio prodotte in originale o copia autenticata, ai sensi di legge.

Per quanto non previsto si richiamano integralmente le norme di cui al D.P.R. 27.3.2001, n. 220.



**CONCORSO PUBBLICO PER TITOLI ED ESAMI, PER LA COPERTURA DI N. 1 POSTO DI
COADIUTTORE AMMINISTRATIVO SENIOR-RUOLO AMMINISTRATIVO (AREA DEGLI
OPERATORI)**

PROVA PRATICA N. 1

1. Qual è l'ente che governa il sistema sanitario regionale lombardo?

- A) Ministero della Salute
- B) Regione Lombardia
- C) Prefettura

2. Come si chiamano le Agenzie di Tutela della Salute in Lombardia?

- A) ASL
- B) ATS
- C) AUSL

3. Le ASST in Lombardia sono:

- A) Agenzie di controllo finanziario
- B) Aziende Socio Sanitarie Territoriali
- C) Associazioni sindacali sanitarie

Prova con ASST

4. Il ticket sanitario è:

- A) Una tassa regionale generica
- B) Una quota di partecipazione alla spesa sanitaria
- C) Un'imposta comunale

5. L'esenzione ticket può essere concessa per:

- A) Solo reddito
- B) Solo età
- C) Reddito, età o patologia

6. Il Fascicolo Sanitario Elettronico (FSE) serve a:

- A) Archiviare dati fiscali
- B) Raccogliere la storia clinica del cittadino
- C) Prenotare solo visite private

7. Il CUP è:

- A) Centro Unico Prenotazioni
- B) Commissione Unica Provinciale
- C) Comitato Urgenze Pubbliche



8. Le ASST gestiscono:

- A) Ospedali e servizi territoriali
- B) Solo farmacie
- C) Solo emergenze

9. Il Fascicolo Sanitario Elettronico è accessibile:

- A) Solo in ospedale
- B) Online con SPID/CIE
- C) Solo dal medico

10. La compartecipazione alla spesa è sinonimo di:

- A) Imposta
- B) Multa
- C) Ticket

11. Qual è il numero successivo?

3 - 6 - 12 - 24 - ?

- A) 36
- B) 48
- C) 30

Per un mio errore

12. Se un oggetto costa 80€ e viene scontato del 50%, quanto costa dopo lo sconto?

- A) 40€
- B) 30€
- C) 50€

13. Se oggi è venerdì, che giorno era 3 giorni fa?

- A) Lunedì
- B) Martedì
- C) Mercoledì

14. Se alcuni studenti sono atleti e Marco è uno studente, allora:

- A) Marco è sicuramente atleta
- B) Marco potrebbe essere atleta
- C) Marco non è atleta

15. Se tutti i libri sono oggetti e alcuni oggetti sono rossi, allora:

- A) Tutti i libri sono rossi
- B) Alcuni libri potrebbero essere rossi
- C) Nessun libro è rosso



**16. Quale parola completa la sequenza?
Lunedì – Martedì – Mercoledì – ?**

- A) Giovedì
- B) Venerdì
- C) Sabato

17. Se 5 operai costruiscono un muro in 10 giorni, quanti giorni servono a 10 operai (stessa produttività)?

- A) 5
- B) 10
- C) 20

**18. Qual è il numero mancante?
3 – 9 – 27 – ?**

- A) 54
- B) 72
- C) 81

19. Un padre ha 40 anni e suo figlio 10. Tra quanti anni l'età del padre sarà il doppio di quella del figlio?

- A) 15
- B) 20
- C) 10

PROVA non ostentare

20. Se tutti i medici sono laureati e alcuni laureati sono musicisti, allora:

- A) Tutti i medici sono musicisti
- B) Alcuni medici potrebbero essere musicisti
- C) Nessun medico è musicista

21. In quale anno è entrata in vigore la Costituzione italiana?

- A) 1946
- B) 1948
- C) 1952

22. Quale fiume attraversa Budapest?

- A) Danubio
- B) Reno
- C) Senna



23. Chi ha dipinto "Guernica"?

- A) Salvador Dalí
- B) Pablo Picasso
- C) Francisco Goya

24. Qual è la capitale del Canada?

- A) Toronto
- B) Ottawa
- C) Montréal

25. Quale elemento chimico ha simbolo "Na"?

- A) Azoto
- B) Sodio
- C) Nichel

26. Qual è il monte più alto del mondo?

- A) K2
- B) Everest
- C) Kangchenjunga

27. Chi ha scritto "Il Principe"?

- A) Niccolò Machiavelli
- B) Tommaso Moro
- C) Jean Bodin

PROVA non est2026

28. In quale città si trova il Partenone?

- A) Roma
- B) Istanbul
- C) Atene



29. Quale gas è responsabile principalmente dell'effetto serra?

- A) Ossigeno
- B) Anidride carbonica
- C) Azoto

30. Qual è la capitale dell'Australia?

- A) Sydney
- B) Melbourne
- C) Canberra





**CONCORSO PUBBLICO PER TITOLI ED ESAMI, PER LA COPERTURA DI N. 1 POSTO DI
COADIUTTORE AMMINISTRATIVO SENIOR-RUOLO AMMINISTRATIVO (AREA DEGLI
OPERATORI)**

PROVA PRATICA N. 2

1. L'assistenza domiciliare integrata (ADI) è destinata a:

- A) Pazienti fragili
- B) Solo atleti
- C) Solo turisti

2. Le Case di Comunità rafforzano:

- A) Sistema fiscale
- B) Difesa militare
- C) Assistenza territoriale

Provvisoria estrazione

3. Il SSR lombardo è parte di:

- A) Sistema Europeo Privato
- B) Sistema Sanitario Nazionale
- C) Sistema Comunale



4. Il SSR lombardo promuove:

- A) Prevenzione e screening
- B) Solo chirurgia
- C) Solo emergenze

5. Gli screening oncologici sono:

- A) A pagamento per tutti
- B) Gratuiti per fasce target
- C) Solo privati


6. Le RSA ospitano prevalentemente:

- A) Anziani non autosufficienti
- B) Studenti
- C) Atleti

7. Il sistema sanitario lombardo garantisce:

- A) Medico obbligatorio
- B) Nessuna scelta
- C) Libera scelta del medico





8. Le vaccinazioni sono garantite da:

- A) Sistema sanitario pubblico
- B) Ministero dei Trasporti
- C) Prefettura

9. Il medico pediatra segue:

- A) Anziani
- B) Bambini
- C) Adulti

10. L'assistenza territoriale comprende:

- A) Case di Comunità
- B) Tribunali
- C) Questure

11. Se un articolo costa 120€ e viene scontato del 25%, quanto costa dopo lo sconto?

- A) 90€
- B) 100€
- C) 95€

**12. Qual è il numero successivo?
7 - 14 - 28 - 56 - ?**

- A) 84
- B) 98
- C) 112

13. Se alcuni fiori sono rossi e tutti i tulipani sono fiori, allora:

- A) Alcuni tulipani potrebbero essere rossi
- B) Tutti i tulipani sono rossi
- C) Nessun tulipano è rosso

**14. Quale numero non segue la stessa regola?
4 - 8 - 16 - 18 - 32**


- A) 8
- B) 18
- C) 32

15. Se 3 penne costano 6€, quanto costano 7 penne?

- A) 12€
- B) 14€
- C) 16€

*PROVA non
estranea*





16. Se oggi è mercoledì, che giorno era 10 giorni fa?

- A) Domenica
- B) Sabato
- C) Lunedì

17. Quale figura ha 6 lati?

- A) Esagono
- B) Pentagono
- C) Ottagono

18. Un'auto percorre 150 km in 3 ore. Velocità media?

- A) 45 km/h
- B) 50 km/h
- C) 55 km/h

19. Se tutti gli studenti studiano e Marco è uno studente, allora:

- A) Marco studia
- B) Marco non studia
- C) Non si può sapere

20. Qual è il numero mancante?

9 - 18 - 36 - ?

- A) 54
- B) 72
- C) 81

21. Quale Paese ha per capitale Buenos Aires?

- A) Argentina
- B) Cile
- C) Perù

22. Il trattato di Maastricht ha istituito:


- A) L'ONU
- B) L'Unione Europea
- C) La NATO

23. Quale pianeta ha gli anelli più evidenti?

- A) Saturno
- B) Marte
- C) Venere

PROVA con estratti





24. Chi compose l'opera "La Traviata"?

- A) Puccini
- B) Verdi
- C) Rossini

25. In quale anno cadde il Muro di Berlino?

- A) 1989
- B) 1991
- C) 1975

26. Quale lingua è parlata in Argentina?

- A) Portoghese
- B) Spagnolo
- C) Francese

27. Qual è il mare tra Italia e Grecia?

- A) Adriatico
- B) Tirreno
- C) Ligure

28. Chi ha formulato la teoria della relatività?

- A) Isaac Newton
- B) Albert Einstein
- C) Galileo Galilei

PROVA con
estratti

29. Quale Stato confina con l'Italia?

- A) Portogallo
- B) Austria
- C) Belgio

30. In quale periodo storico si colloca la Rivoluzione francese?

- A) 1789
- B) 1815
- C) 1914

Rho, 20 febbraio 2026





**CONCORSO PUBBLICO PER TITOLI ED ESAMI, PER LA COPERTURA DI N. 1 POSTO DI
COADIUTORE AMMINISTRATIVO SENIOR-RUOLO AMMINISTRATIVO (AREA DEGLI
OPERATORI)**

PROVA PRATICA N. 3

1. Il SSR significa:

- A) Sistema Sociale Regionale
- B) Servizio Sanitario Regionale
- C) Servizio Sicurezza Regionale

2. Il finanziamento della sanità proviene anche dal:

- A) Fondo Sanitario Nazionale
- B) Fondo pensioni privato
- C) Fondo sportivo

3. L'AREU gestisce principalmente:

- A) Emergenza sanitaria
- B) Università
- C) Trasporti

4. Cosa si intende con la sigla O.M.S.?

- A) Organismi modificati nella sostanza
- B) Organizzazione di mutua solidarietà
- C) Organizzazione Mondiale della Sanità

5. Cos'è il Piano sanitario regionale?


- A) Il Piano strategico degli interventi finalizzati alla tutela della salute diretto a soddisfare le esigenze della popolazione regionale
- B) Il documento programmatico mediante il quale sono stabilite le linee generali di indirizzo del servizio sanitario nazionale
- C) L'insieme di Piani attuativi locali

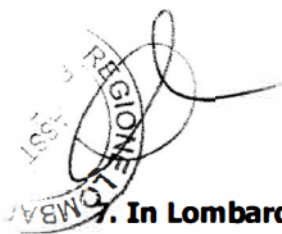
6. Da chi è nominato il Direttore Generale dell'ASST?

- A) Dal Ministro della Salute
- B) Dalla Giunta Regionale
- C) Dal Governo



Prava EST 2008





7. In Lombardia il servizio di emergenza-urgenza è coordinato da:

- A) ATS
- B) INPS
- C) AREU

8. Il medico di base lavora:

- A) In convenzione con il SSN
- B) Solo privatamente
- C) Per il Comune

9. L'esenzione ticket può essere concessa per:

- A) Solo reddito
- B) Solo età
- C) Reddito, età o patologia

10. Le ASST gestiscono:

- A) Ospedali e servizi territoriali
- B) Solo farmacie
- C) Solo emergenze

11. Qual è la capitale della Cina?

- A) Shanghai
- B) Tokyo
- C) Pechino

12. Quale continente è attraversato dall'Equatore?

- A) Africa
- B) Europa
- C) Oceania


13. In quale città si trova la Sagrada Familia?

- A) Madrid
- B) Valencia
- C) Barcellona

14. Qual è la valuta del Giappone?

- A) Won
- B) Yuan
- C) Yen

P
R
O
V
A
L
E
N
T
E
S



15. Quale guerra iniziò nel 1914?

- A) Seconda guerra mondiale
- B) Prima guerra mondiale
- C) Guerra civile americana

16. Qual è la capitale della Turchia?

- A) Istanbul
- B) Ankara
- C) Smirne

17. Chi ha dipinto la Gioconda?

- A) Michelangelo
- B) Leonardo da Vinci
- C) Raffaello

18. In quale Stato si trovano le Piramidi di Giza?

- A) Egitto
- B) Sudan
- C) Libia

19. Chi ha scritto "La coscienza di Zeno"?

- A) Italo Svevo
- B) Luigi Pirandello
- C) Gabriele D'Annunzio

20. Qual è la capitale della Svezia?

- A) Oslo
- B) Copenaghen
- C) Stoccolma

21. Un numero è divisibile per 9 se:

- A) Finisce per 9
- B) La somma delle cifre è multiplo di 9
- C) È pari

22. Se 3 documenti richiedono 6 minuti ciascuno, quanto tempo serve per 5 documenti?

- A) 25 minuti
- B) 30 minuti
- C) 28 minuti

P. c. s. 02/03/04



23. Un reparto ha 60 pazienti e 20 infermieri. Qual è il rapporto pazienti/infermieri?

- A) 3
- B) 4
- C) 2

24. Un padre ha 40 anni e suo figlio 10. Tra quanti anni l'età del padre sarà il doppio di quella del figlio?

- A) 15
- B) 20
- C) 10

25. Se tutti i medici sono laureati e alcuni laureati sono musicisti, allora:

- A) Tutti i medici sono musicisti
- B) Alcuni medici potrebbero essere musicisti
- C) Nessun medico è musicista

26. Se un articolo costa 120€ e viene scontato del 25%, quanto costa dopo lo sconto?

- A) 90€
- B) 100€
- C) 95€

27. Qual è il numero successivo?

7 - 14 - 28 - 56 - ?

- A) 84
- B) 98
- C) 112

28. Se alcuni fiori sono rossi e tutti i tulipani sono fiori, allora:

- A) Alcuni tulipani potrebbero essere rossi
- B) Tutti i tulipani sono rossi
- C) Nessun tulipano è rosso

29. Quale numero non segue la stessa regola?

4 - 8 - 16 - 18 - 32

- A) 8
- B) 18
- C) 32

30. Se 3 penne costano 6€, quanto costano 7 penne?

- A) 12€
- B) 14€
- C) 16€

Rho, 20 febbraio 2026

Prov. est. 2026

PROVA 1

1. Risposta corretta: B
2. Risposta corretta: B
3. Risposta corretta: B
4. Risposta corretta: B
5. Risposta corretta: C
6. Risposta corretta: B
7. Risposta corretta: A
8. Risposta corretta: A
9. Risposta corretta: B
10. Risposta corretta: C
11. Risposta corretta: B
12. Risposta corretta: A
13. Risposta corretta: B
14. Risposta corretta: B
15. Risposta corretta: B
16. Risposta corretta: A
17. Risposta corretta: A
18. Risposta corretta: C
19. Risposta corretta: B
20. Risposta corretta: B
21. Risposta corretta: B
22. Risposta corretta: A
23. Risposta corretta: B
24. Risposta corretta: B
25. Risposta corretta: B
26. Risposta corretta: B
27. Risposta corretta: A
28. Risposta corretta: C
29. Risposta corretta: B
30. Risposta corretta: C



PROVA 2

1. Risposta corretta: A
2. Risposta corretta: C
3. Risposta corretta: B
4. Risposta corretta: A
5. Risposta corretta: B
6. Risposta corretta: A
7. Risposta corretta: C
8. Risposta corretta: A
9. Risposta corretta: B
10. Risposta corretta: A
11. Risposta corretta: A
12. Risposta corretta: C
13. Risposta corretta: A
14. Risposta corretta: B
15. Risposta corretta: B
16. Risposta corretta: A
17. Risposta corretta: A
18. Risposta corretta: B
19. Risposta corretta: A
20. Risposta corretta: B
21. Risposta corretta: A
22. Risposta corretta: B
23. Risposta corretta: A
24. Risposta corretta: B
25. Risposta corretta: A
26. Risposta corretta: B
27. Risposta corretta: A
28. Risposta corretta: B
29. Risposta corretta: B
30. Risposta corretta: A



PROVA 3

1. Risposta corretta: B
2. Risposta corretta: A
3. Risposta corretta: A
4. Risposta corretta: C
5. Risposta corretta: A
6. Risposta corretta: B
7. Risposta corretta: C
8. Risposta corretta: A
9. Risposta corretta: C
10. Risposta corretta: A
11. Risposta corretta: C
12. Risposta corretta: A
13. Risposta corretta: C
14. Risposta corretta: C
15. Risposta corretta: B
16. Risposta corretta: B
17. Risposta corretta: B
18. Risposta corretta: A
19. Risposta corretta: A
20. Risposta corretta: C
21. Risposta corretta: B
22. Risposta corretta: B
23. Risposta corretta: A
24. Risposta corretta: B
25. Risposta corretta: B
26. Risposta corretta: A
27. Risposta corretta: C
28. Risposta corretta: A
29. Risposta corretta: B
30. Risposta corretta: B

